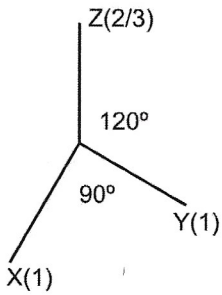
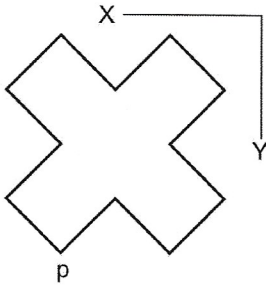
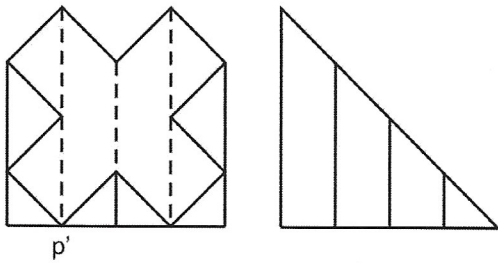



2. Resol aquest problema de cossos de cares planes en el sistema axonòmic donat. Dibuixa'l a escala doble i concreta el resultat amb les línies vistes.



+P

12

Nom	Curs Grup	Data	
	Tema 12 – Intersecció de cossos Activitats complementàries	Escala 2:1	Puntuació