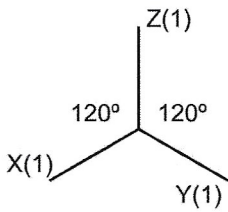
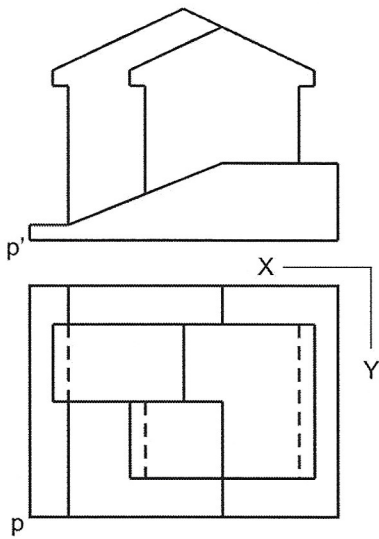



1. Resol aquest problema de cossos de cares planes en el sistema axonòmic donat. Dibuixa'l a escala doble i concreta el resultat amb les línies vistes.



+P

Nom	Curs Grup	Data	
	<b>Tema 12 – Intersecció de cossos</b> <b>Activitats complementàries</b>	Escala <b>1:1</b>	Puntuació