

Nom:		NOTA
Matèria: <i>TECNOLOGIA</i>	Unitat: <i>RECUPERACIÓ</i>	
Curs: <i>1r ESO</i>	Data:	

UNITAT 1: La tecnologia i el procés tecnològic (Activitats de repàs per l'examen de Recuperació)

1. Explica el procés tecnològic:

2. Relaciona els objectes següents amb la necessitat que satisfan:

Televisor	Llum
Tren	Habitatge
Làmpada	Transport
Pot de pèsols	Diversió
Casa	Informació
Telèfon	Vestit
Parc d'atraccions	Alimentació
Raspall de dents	Higiene personal
Pantalons	Comunicació

3. Fes un esquema amb les passes del procés tecnològic:


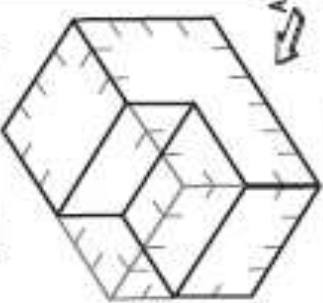

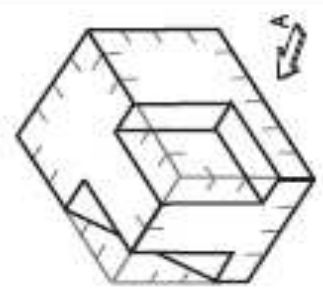
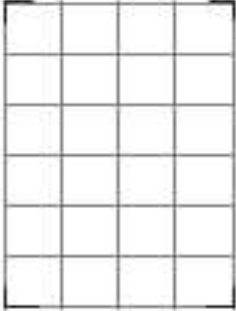


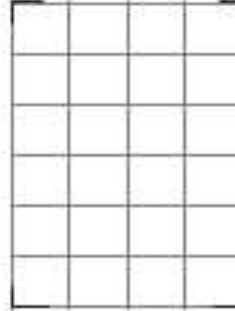

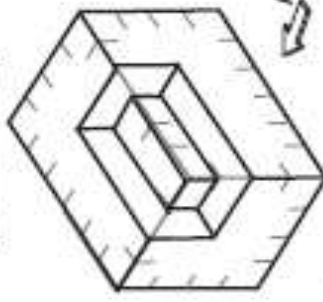

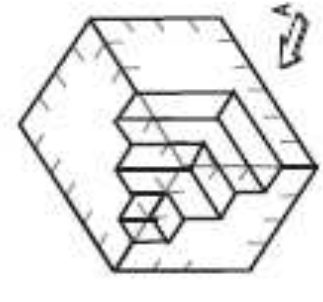
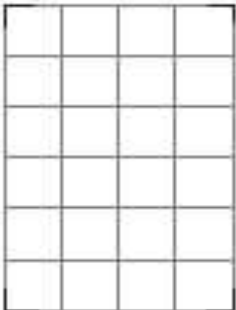
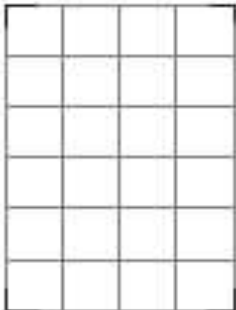
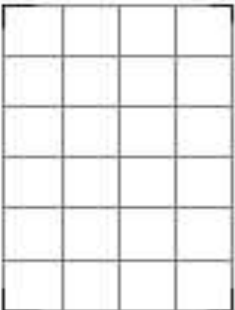

4. Ordena els passos del procés tecnològic per fabricar una cadira posar el número al davant.

- | | |
|---|---|
| <input type="checkbox"/> envernissar | <input type="checkbox"/> unir les potes als seients amb cola |
| <input type="checkbox"/> provar si la cadira és resistent | <input type="checkbox"/> marcar i tallar les peces |
| <input type="checkbox"/> presentar la cadira als altres | <input type="checkbox"/> fer el pressupost dels materials i les eines |
| <input type="checkbox"/> dissenyar els plànols de la cadira | |
-


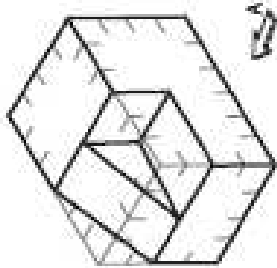

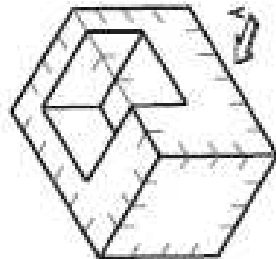
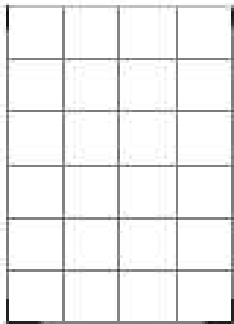
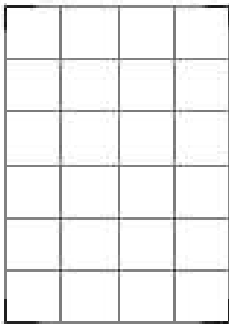
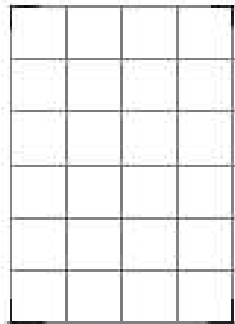
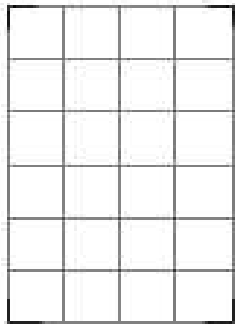
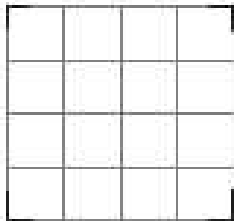
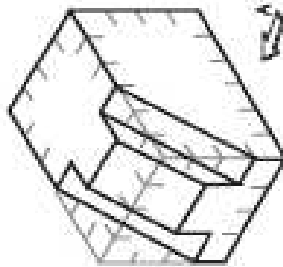
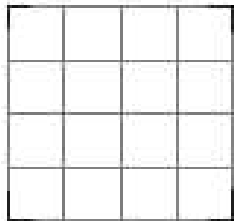
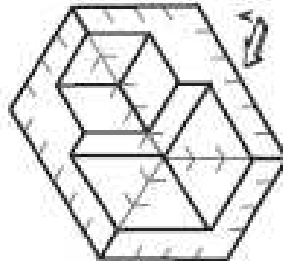
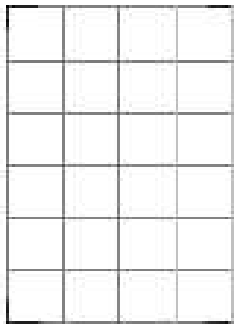

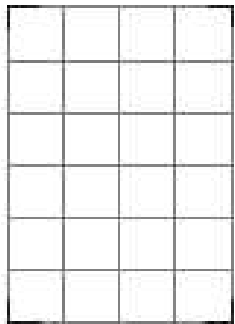
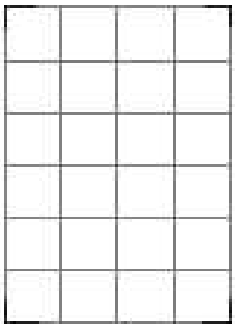
Nom:		NOTA
Matèria: <i>TECNOLOGIA</i>	Unitat: <i>RECUPERACIÓ</i>	
Curs: <i>1r ESO</i>	Data:	

UNITAT 2: Dibuix tècnic (Activitats de repàs per l'examen de Recuperació)

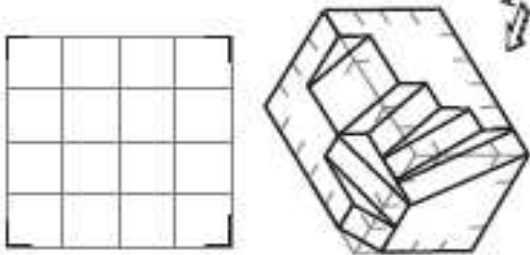
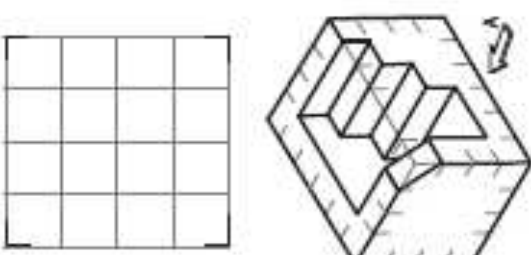
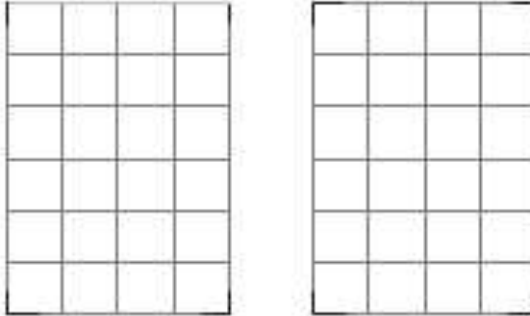
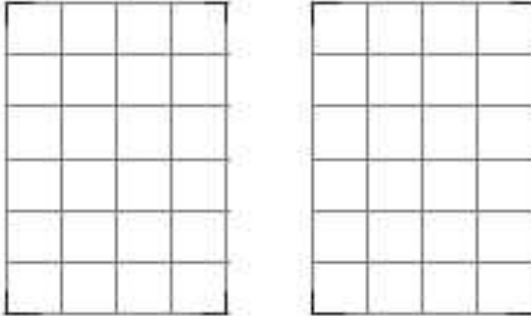
5. Dibuixa les vistes de les següents figures:

			
			
<p>Nota: Este pieza contiene aristas ocultas en algunas de sus vistas. Debes representarla con líneas discontinuas.</p>			
			
			

Nom:		NOTA
Matèria: <i>TECNOLOGIA</i>	Unitat: <i>RECUPERACIÓ</i>	
Curs: <i>1r ESO</i>	Data:	

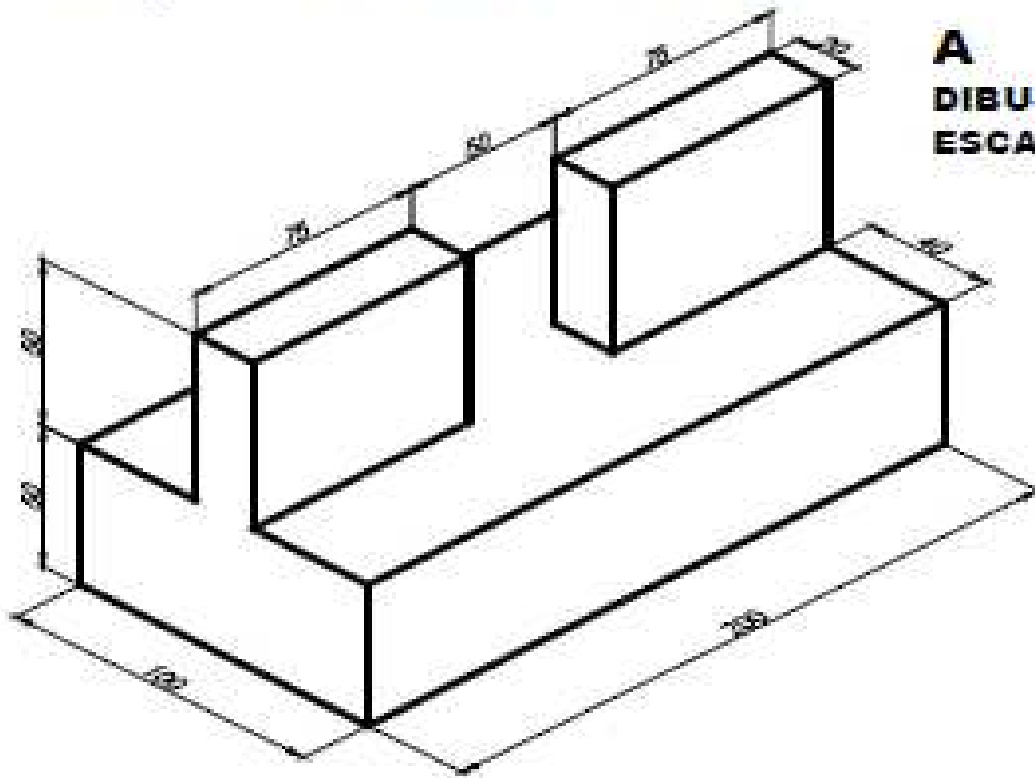
			
			
<p>Nota: Este dibujo contiene aristas ocultas en alguna de sus vistas. Debes representaras con líneas discontinuas.</p>			
			
			

Nom:		NOTA
Matèria: <i>TECNOLOGIA</i>	Unitat: <i>RECUPERACIÓ</i>	
Curs: <i>1r ESO</i>	Data:	

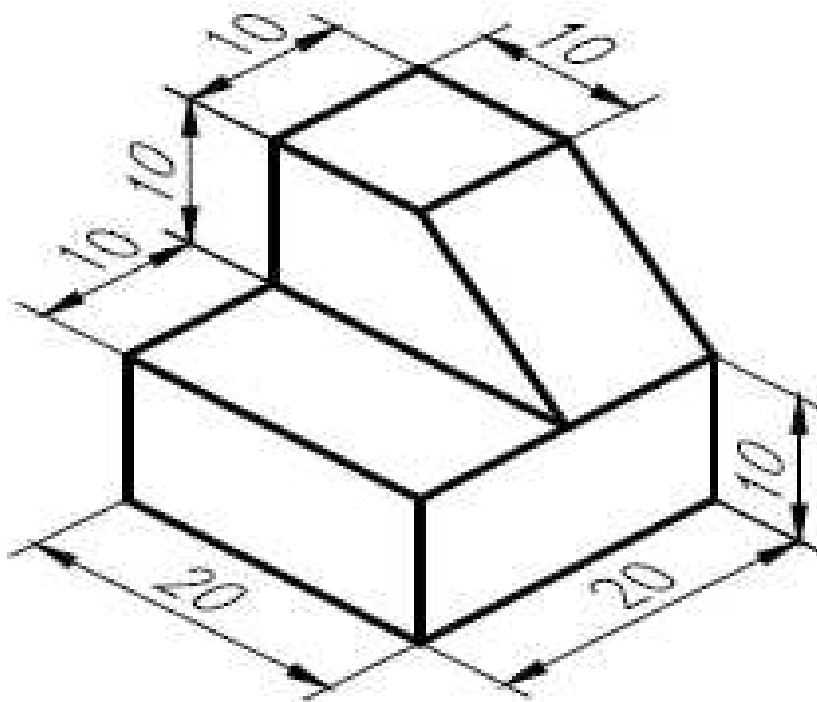
	
	

Quid: Este pieza contiene aristas ocultas en alguna de sus vistas. Debes representas con líneas discontinuas.

Nom:		NOTA
Matèria: <i>TECNOLOGIA</i>	Unitat: <i>RECUPERACIÓ</i>	
Curs: <i>1r ESO</i>	Data:	



A
DIBUJAR A
ESCALA 1:2



B
DIBUJAR A
ESCALA 2:1

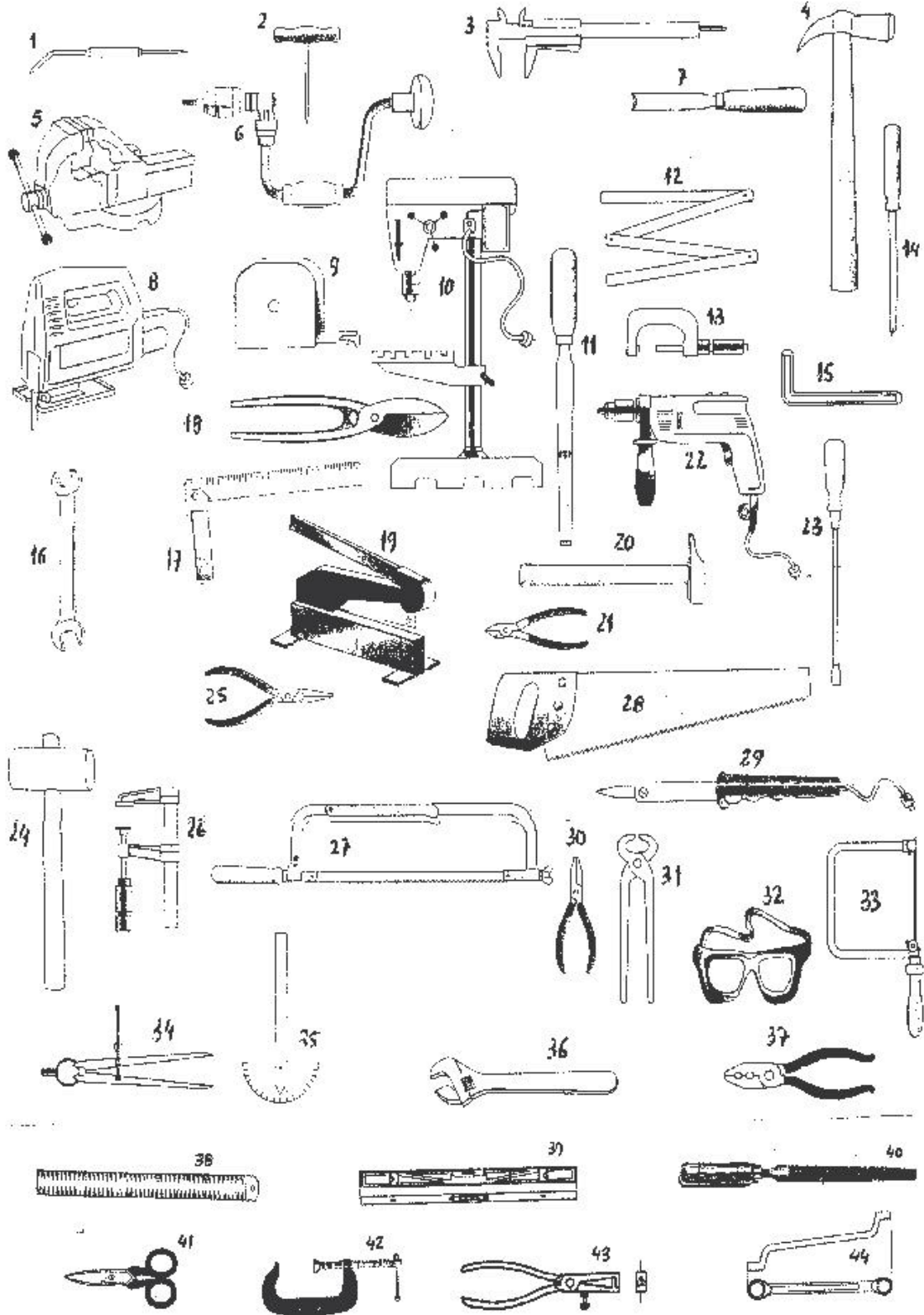


INSTITUT
CENDRASSOS

Nom:		NOTA
Matèria: <i>TECNOLOGIA</i>	Unitat: <i>RECUPERACIÓ</i>	
Curs: <i>1r ESO</i>	Data:	

UNITAT 3: Les eines (Activitats de repàs per l'examen de Recuperació)

6. Omple la taula amb les eines dibuixades a continuació:



Nom	Família	Funció
-----	---------	--------



INSTITUT
CENDRASSOS

Nom:		NOTA
Matèria: <i>TECNOLOGIA</i>	Unitat: <i>RECUPERACIÓ</i>	
Curs: <i>1r ESO</i>	Data:	

1	Punta assenyalar	marcar, traçar	Marcar línies o dibuixos sobre metalls
2			
3			
4			
5			
6			
7			
8			
9			
10			
11			
12			
13			
14			
15			
16			
17			
18			
19			
20			
21			
22			
23			
24			
25			



INSTITUT
CENDRASSOS

Nom:		NOTA
Matèria: <i>TECNOLOGIA</i>	Unitat: <i>RECUPERACIÓ</i>	
Curs: <i>1r ESO</i>	Data:	

26			
27			
28			
29			
30			
31			
32			
33			
34			
35			
36			
37			
38			
39			
40			
41			
42			
43			
44			

7. Completa aquesta fitxa

Nom:		NOTA
Matèria: <i>TECNOLOGIA</i>	Unitat: <i>RECUPERACIÓ</i>	
Curs: <i>1r ESO</i>	Data:	

Eines	Dades de les eines
	Nom: Família: Què fem amb aquesta eina?
	Nom: Família: Què fem amb aquesta eina?
	Nom: Família: Què fem amb aquesta eina?
	Nom: Família: Què fem amb aquesta eina?
	Nom: Família: Què fem amb aquesta eina?
	Nom: Família: Què fem amb aquesta eina?